

نام و نام خانوادگی:

.....

به نام خدا

مدیریت آموزش و پرورش شهرستان رامسر

دبستان و پیش دبستان غیردولتی **مهرگان**

سال تحصیلی ۱۴۰۱-۱۴۰۰

مداد کاغذی ریاضی

خرداد ۱۴۰۱

پایه: دوم

۱- در هر مستطیل ۷ دایره بکشید و بگویید روی هم چند دایره در مستطیل ها وجود دارد؟

Four empty rectangular boxes for drawing circles.

۲- من چه عددی هستم که یکانم بزرگ ترین عدد یک رقمی و دهگانم کوچک ترین عدد یک رقمی و صدگانم ۳ تا از یکانم کمتر است؟

ص	د	ی

من را به حروف و رقم بنویس: حروف: رقم:

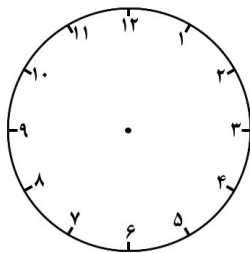
۳- تفاوت و شباهت شکل های زیر را بنویس.



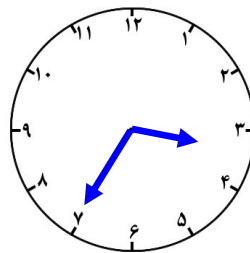
تفاوت:

شباهت:

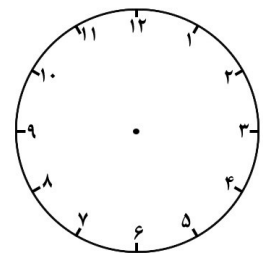
۴- ساعت قبل و بعد را نشان بده.



یک ربع قبل



نیم ساعت بعد




..... :

..... :

..... :

۵- قد مهران ۱۶۲ سانتی متر است. خواهرش ۱۲ سانتی متر از او کوتاه تر است. قد خواهرش چند سانتی متر است؟

۶- احتمال ایستادن عقربه روی کدام رنگ بیشتر است؟ چرا؟



۷- عددی بنویس که صدگانش ۸ و یکانش ۵ باشد:

این عدد زوج است یا فرد؟

۸- کامل کن.

۵۷ میلی متر سانتی متر و میلی متر.

۵ سانتی متر میلی متر.

۹- اعداد زیر را به رقم و حروف بنویس.


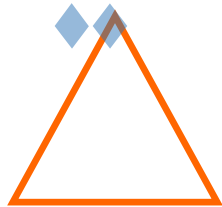
..... : ۶۰۲

..... : پانصد و هفتاد

..... : ۹۴۰

..... : ششصد و نود و یک

۱۰- خط تقارن شکل های زیر را بکش. طوری که به دو قسمت مساوی تقسیم شود.



موفق باشی نابغه

